



PROVA D'ACCÉS A GRAU MITJÀ

Convocatòria de 2024

VERSIÓ CATALANA - NOA

INSTRUCCIONS DE LA PROVA

- Disposau d'**1 hora** per fer la prova.
- L'examen s'ha de presentar escrit **amb tinta blava o negra**, no a llapis.
- **No** es poden usar **telèfons mòbils** ni **aparells electrònics**.
- És possible que necessiteu **un regle** i **una calculadora**.
- **No** es pot entrar a l'examen amb **texts o documents escrits**.
- Les **errades ortogràfiques** descompten fins a **2 punts**.
- Llegiu bé els **enunciats**, en ocasions se us demana més d'una tasca.
- Podeu sol·licitar **un full de paper** segellat per fer-hi anotacions en brut. Aquest full es lliura amb l'examen però no es corregeix. Totes les preguntes es contesten al full d'examen.
- En acabar, invertiu temps en **repassar** totes les vostres respostes.

DADES PERSONALS DE L'ALUMNE/A

Nom: _____

Llinatges: _____

DNI/NIE:

--	--	--	--	--	--	--	--	--

Qualificació:

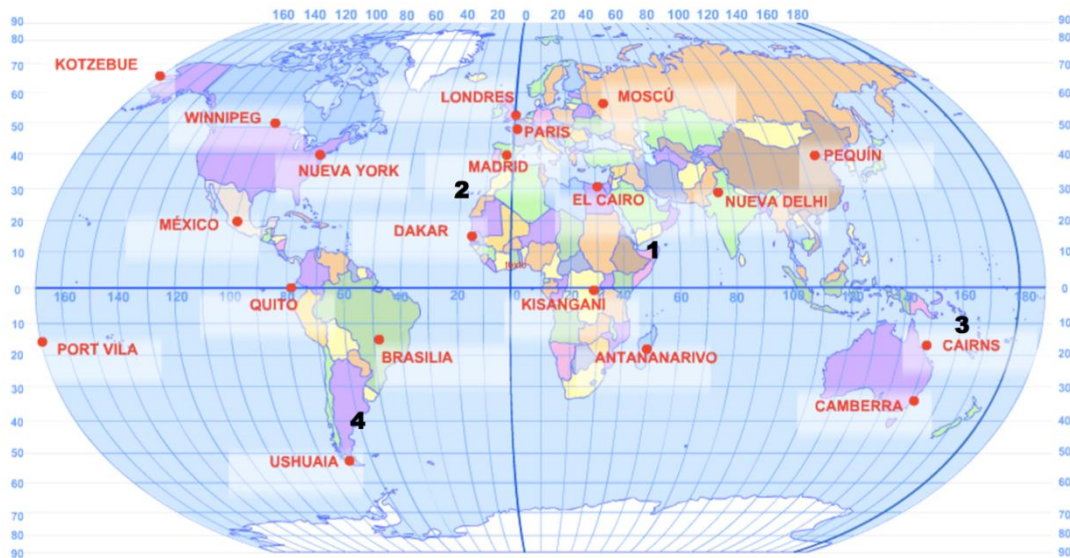
--

Signatura de l'alumne/a:

--

Bona sort!

1. Fixau-vos bé en el mapa de la Terra i responeu les preguntes plantejades. (2 punts)



- a) Situau els oceans i els continents en el mapa. (0,05 punts per resposta correcta)
- b) Al voltant de la imatge, indicau els quatre punts cardinals. (0,05 punts per resposta correcta)
- c) Ubicau l'equador i el meridià de Greenwich en el planisferi. (0,05 punts per resposta correcta)
- d) Contestau les preguntes següents sobre les coordenades geogràfiques: (0,10 punts per resposta correcta)
 - i. En primer lloc, localitzau les coordenades geogràfiques dels punts 1, 2, 3 i 4.

	1	2	3	4
Latitud				
Longitud				

- ii. En segon lloc, esbrinau quines ciutats es troben en les coordenades geogràfiques següents:

Coordenades	Ciutat	Coordenades	Ciutat
17° S – 149° E		39° N – 116° E	
41° N – 4° O		19° N – 99° O	
54° S – 68° O		2° S – 29° E	

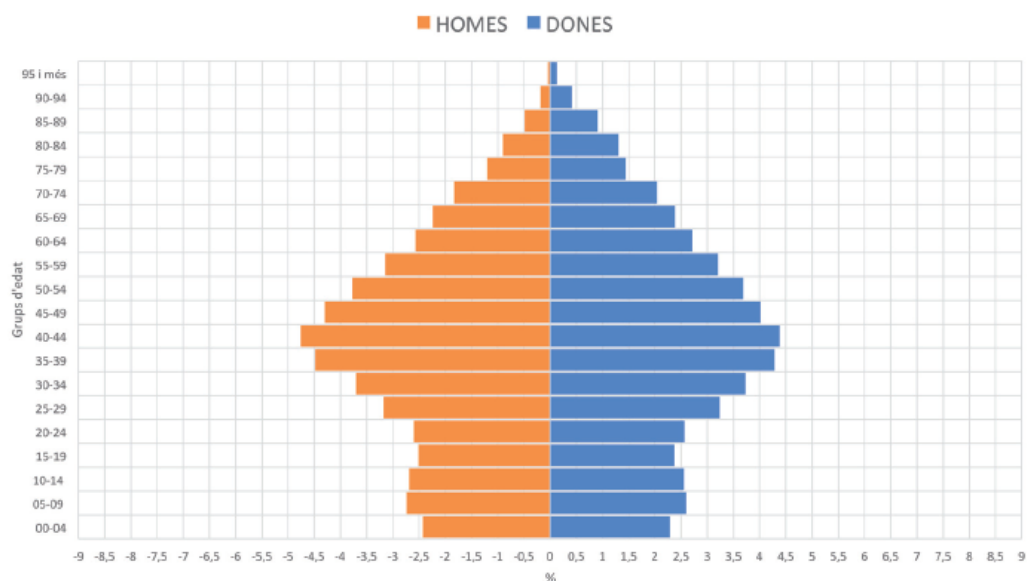
2. Us han encomanat que dissenyeu un recorregut per les principals unitats de relleu de la Península Ibèrica. És per això que primer heu de situar els elements del relleu que trobareu dins el requadre i després traçar el camí del vostre viatge indicant quin criteri heu seguit. (1 punt: 0,10 punts per resposta correcta)

Les **serralades** següents: els Pirineus, el Sistema Ibèric i la serralada Bètica / El **cim** del Mulhacén / La **depressió** del Guadalquivir / Els **rius** Ebre, Duero, Tajo i Miño



3. Analitzau el gràfic següent i responeu les preguntes. (1 punt: 0,20 punts per pregunta)

ESTRUCTURA PER SEXES I EDATS DE LA POBLACIÓ DE LES ILLES BALEARS. 2018



- a) Amb quin nom és conegut aquest tipus de gràfic en la disciplina de la geografia humana? Quina informació recull?
- b) Quina estructura demogràfica té?
- c) Com és la natalitat? I la mortalitat?
- d) Quin grau d'envelliment presenta la població balear?
- e) Quins reptes futurs planteja el model demogràfic actual?

4. Llegiu la notícia següent i contestau les preguntes. (1 punt: 0,20 punts per pregunta)

Mallorca viu la pitjor sequera de l'última dècada

La falta de pluja accentua la sequera al País Valencià, Catalunya i les Balears

Néstor Gómez, 30 d'agost del 2016

Les sequeres no són fenòmens que actuen de manera aïllada en el territori, sinó que n'afecten grans extensions. L'actual sequera que es dona al sud d'Europa abraça tot el centre, sud i est peninsular, a més de les illes Balears.

Si fa uns dies presentàvem el resultat d'un estudi fet pel Centre per al Canvi Climàtic que anunciava que Barcelona afronta la tercera pitjor sequera des de fa 230 anys, ara arriben dades de Mallorca.

L'illa viu una sequera que es nota en l'estat de les reserves d'aigua, que només estan al 44 %. Un mínim d'aigua que coincideix amb la màxima demanda per l'arribada del pic de la temporada turística. Cal pensar que durant el mes de juliol es va batre un rècord de turistes a l'illa, amb més de 2.400.000 visitants. Els aqüífers no estaven en uns nivells tan baixos des del 2006.

Deu pobles del pla de Mallorca, al centre de l'illa, estan en fase d'alerta, segons l'Agència Balear d'Aigua i Qualitat Ambiental

(Abaqua). Valldemossa i Estellencs, a la serra de Tramuntana, han demanat que es redueixi l'ús d'aigua de les dutxes de les platges i per a la neteja de carrers, i han prohibit regar durant el dia i reomplir les piscines.

Puigpunyent és un dels pobles més afectats per la falta d'aigua i és el primer a rebre aigua potable amb camions cisterna aportats per Abaqua.

Les pluges que s'esperen a la tardor són vitals. Si no arriben, les reserves d'aigua minvaran encara més i tota l'illa podria entrar en fase d'alerta. Amb dades de principis d'agost, el 78 % de l'aigua procedia de dessalinitzadores, enfront del 12 % que s'extreu d'aigües subterrànies o fonts. Només la dessalinitzadora de la badia de Palma és capaç de tractar 70.000 m³ al dia i cobreix les necessitats de més de 600.000 persones

Font: programa *El Temps* de TV (<https://www.ccma.cat/el-temps>)

- a) Situau la notícia: en quin mitjà de comunicació es va publicar? Qui n'és l'autor? Quan es va redactar?

- b) Quina problemàtica exposa aquesta notícia?

- c) Quines mesures varen prendre alguns pobles respecte aquesta qüestió?

- d) D'on prové l'aigua que utilitzam en el dia a dia a Mallorca?

- e) Esmentau almenys **tres** mesures per fer un consum responsable de l'aigua que s'hagin de promoure entre els habitants de Mallorca i les persones que visiten les Illes Balears.

5. Emplenau la taula següent col·locant la informació sobre les etapes de la prehistòria a la columna que correspongui. (1 punt: 0,10 punts per resposta correcta)


PALEOLÍTIC	NEOLÍTIC
<ol style="list-style-type: none">1. En aquell període visqueren diverses espècies del gènere <i>Homo</i>.2. Eren agricultors i ramaders.3. Eren sedentaris.4. Eren caçadors i recol·lectors.5. Les eines que s'empraven en aquella època eren bifaços, arpons, puntes de fletxa, etc.6. <i>L'Homo sapiens sapiens</i> és l'únic homínid del període.7. Vivien en cabanes i construïren poblats.8. Entre les eines d'aquella època, hi ha molins de mà, destrals, falçs, etc.9. Eren nòmades.10. Vivien en coves o cabanes temporals.	

6. Relacionau els personatges històrics del requadre amb un fet o procés històric. Després, digau a quina època històrica pertanyen. (1 punt: 0,1 punts per resposta correcta)

Jaume I – Cristòfol Colom – Francisco Franco – Felip V – Quint Cecili Metel		
Personatge	Fet o procés històric	Època
	Incorpora les Illes Balears a l'Imperi Romà i funda les ciutats de Palma i Pollentia.	
	Intenta navegar des de la Península Ibèrica cap a les Índies en direcció oest, però es troba amb un «nou» continent.	
	Promulga els Decrets de Nova Planta a les Illes Balears després de la Guerra de Successió.	
	Conquereix l'illa de Mallorca al poder musulmà l'any 1229 i aquesta passa a formar part de la Corona d'Aragó.	
	Instaura una dictadura a Espanya, que durarà des del 1939 fins al 1975.	

7. Completau l'eix cronològic amb les dades del requadre. Després contestau les preguntes. (1 punt: 0,10 punts per resposta correcta de l'eix cronològic; i 0,5 punts corresponents a les preguntes).

Tractat de Versalles (juny 1919)
 Els Estats Units entren en guerra (abril 1917)
 Guerra de Trinxeres (de setembre de 1915 a febrer de 1918)
 Revolució Russa (de febrer a octubre de 1917)
 Atemptat de Sarajevo (juny de 1914)



a) Identificau a quin conflicte de la història contemporània fa referència aquest eix cronològic? (0,10 punts)






b) Esmentau almenys dues conseqüències d'aquesta guerra. (0,40 punts)

8. Llegiu aquestes frases sobre la formació i l'organització de la Unió Europea i completeu-les amb la paraula o paraules del requadre. (1 punt: 0,14 punts per resposta correcta)

Parlament – Tractat de Maastricht – Comissió – Eurodiputats – Comunitat Econòmica Europea – Consell de la UE – Tribunal de Comptes

- a) L'any 1957 l'Alemanya Federal, Itàlia, Bèlgica, els Països Baixos, Luxemburg i França signaren els Tractats de Roma pels quals es va constituir la _____.
- b) L'any 1992, pel _____, la Comunitat Europea passà a anomenar-se Unió Europea (UE).
- c) La _____ és l'òrgan de govern de la UE.
- d) El _____ és la principal instància decisòria.
- e) Dins la UE, l'organisme que controla les despeses és el _____.
- f) El _____ controla la Comissió i el Consell. Està compost per 736 membres anomenats _____, elegits pels ciutadans de la UE.

9. Identificau les obres d'art següents i digau a quin estil artístic pertanyen. (1 punt: 0,1 punts per resposta correcta)

Obra			
Títol			
Estil			
Obra			
Títol			
Estil			