

DATOS DEL ASPIRANTE	
APELLIDOS:	
NOMBRE:	D.N.I./N.I.E.:

1. **MAPA DE EUROPA.** Escriba en el mapa mudo, con la mayor precisión posible, los números correspondientes a los países que se relacionan en el cuadro inferior.
(1 punto: 0,1 puntos cada respuesta correcta)



Nº	Países	Nº	Países
1	Suiza	6	Países Bajos
2	Polonia	7	Grecia
3	Bulgaria	8	Finlandia
4	Chequia	9	Lituania
5	Serbia	10	Austria

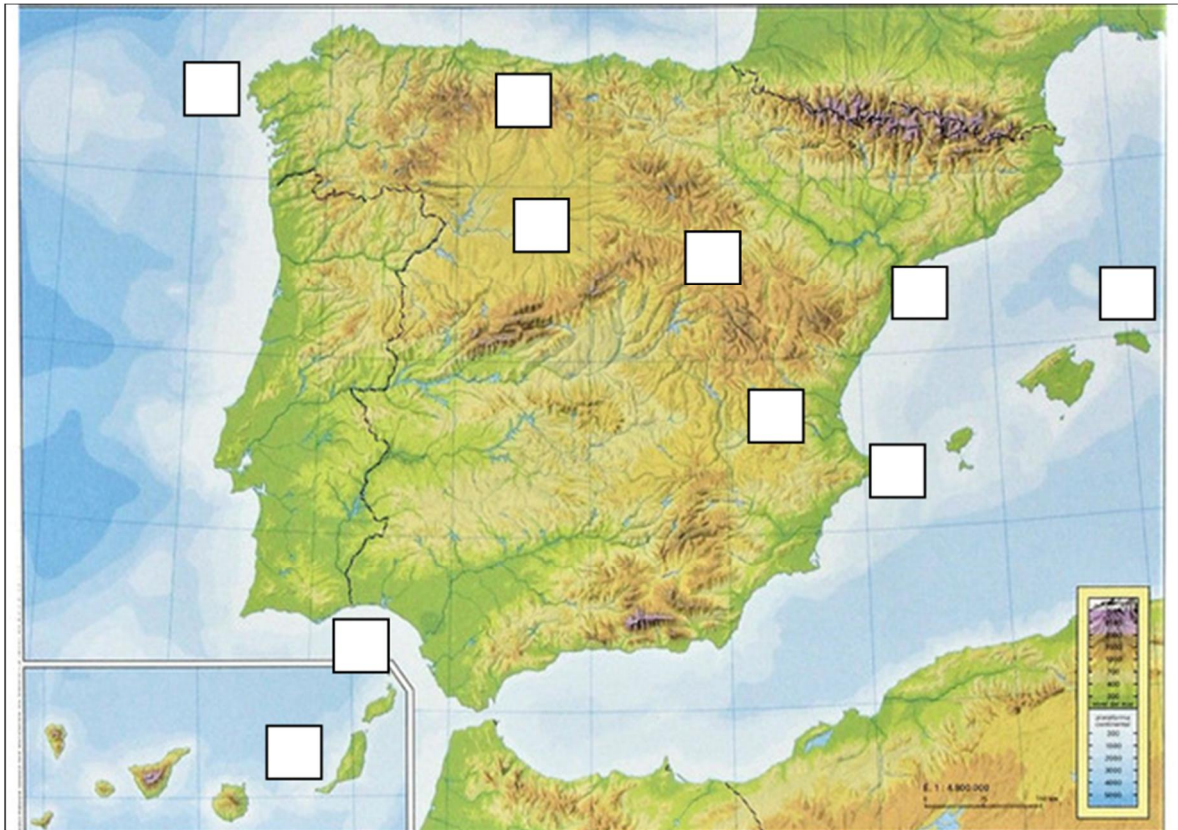
DATOS DEL ASPIRANTE

APELLIDOS:

NOMBRE:

D.N.I./N.I.E.:

2. **MAPA FÍSICO DE ESPAÑA.** Escriba en el cuadro inferior a qué número corresponden los elementos de los relieves interior y costero citados:



INDIQUE EL NÚMERO DE LOS ELEMENTOS DEL RELIEVE CITADOS			
1	Golfo de Cádiz	6	Submeseta Norte
2	Delta del Ebro	7	Isla de Menorca
3	Río Turia	8	Isla de Fuerteventura
4	Cabo Finisterre	9	Cabo de la Nao
5	Picos de Europa	10	Sistema Ibérico

(1 punto: 0,1 puntos cada respuesta correcta)

DATOS DEL ASPIRANTE	
APELLIDOS:	
NOMBRE:	D.N.I./N.I.E.:

3. Defina los siguientes términos y conceptos geográficos:

(1 punto: 0,20 puntos cada respuesta correcta)

a) **Tasa de Mortalidad:**

b) **Paralelos:**

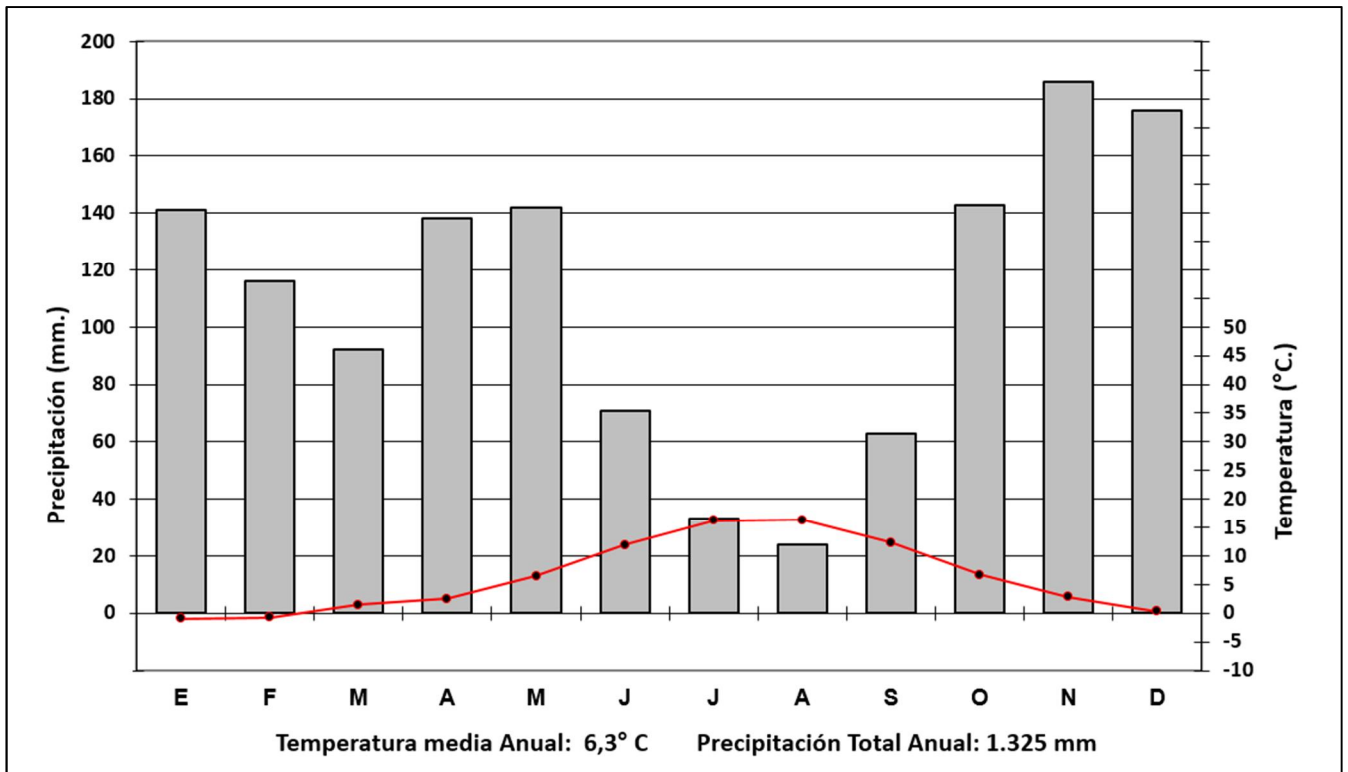
c) **Meseta:**

d) **Dehesa:**

e) **Meandro:**

DATOS DEL ASPIRANTE	
APELLIDOS:	
NOMBRE:	D.N.I./N.I.E.:

4. Interprete el siguiente climograma localizado en un lugar de la Comunidad de Madrid:



(1 punto: 0,25 puntos cada respuesta correcta)

a) Identifique el tipo de clima que es y señale su área de influencia en España:

b) Explique las características de sus temperaturas:

DATOS DEL ASPIRANTE

APELLIDOS:

NOMBRE:


D.N.I./N.I.E.:

c) Explique las características de sus precipitaciones:

d) Explique el tipo de vegetación asociado a este clima:

5. **IMAGEN.** Observe la siguiente imagen y conteste a las preguntas que se realizan sobre ella.

1 punto: 0,25 puntos cada apartado)



Fuente: Wikipedia

a) Identifique y localice el edificio que está representado en la fotografía.

DATOS DEL ASPIRANTE	
APELLIDOS:	
NOMBRE:	D.N.I./N.I.E.:

b) Explique la finalidad con la que se construyó.

c) Indique dos características significativas del arte clásico heleno.

1. _____

2. _____

d) Cite otro movimiento artístico posterior que trate de imitar el arte clásico.

6. Defina los siguientes términos históricos:

(1 punto: 0,25 puntos cada apartado)

a) **Antiguo Régimen:**

b) **Colonialismo:**

c) **Renacimiento:**

DATOS DEL ASPIRANTE	
APELLIDOS:	
NOMBRE:	D.N.I./N.I.E.:

d) **Decretos de Nueva Planta:**

7. Ordene cronológicamente de más antiguo (1) a más moderno (10) los siguientes periodos, culturas, acontecimientos y personajes históricos.

(1 punto: 0,1 puntos cada respuesta correcta)

Descubrimiento de América – Velázquez – Pitágoras – Julio César – El Cid – Neolítico – Revolución Francesa – Carlos II – Despotismo ilustrado – 1ª Guerra Mundial

1		6	
2		7	
3		8	
4		9	
5		10	

8. Lea con atención el siguiente texto y conteste a las preguntas que se realizan.

TEXTO: *“No estamos en contra del pueblo alemán, sino del despotismo militar de Alemania. Debemos combatir para salvaguardar la democracia (...). Resulta terrible lanzar a este grande y pacífico pueblo a una guerra, la más terrible y desastrosa que jamás haya existido, puesto que en ella se ventila la existencia de la misma civilización. Pero el derecho es más valioso que la paz, y nosotros vamos a combatir por aquellas cosas que siempre han sido más caras a nuestros corazones: por el derecho que tienen los gobernados a que se oigan sus voces en el propio gobierno, por los derechos y libertades de las pequeñas naciones y por una organización basada en el derecho, integrada por una cordial alianza entre los pueblos libres, que ofrezca paz y seguridad a todas las naciones y dé, finalmente, la libertad al mundo (...).”*

Declaración del presidente T. W. Wilson en el Congreso de los Estados Unidos (2 de abril de 1917).

(1 punto: 0,25 puntos cada apartado)

DATOS DEL ASPIRANTE	
APELLIDOS:	
NOMBRE:	D.N.I./N.I.E.:

a) ¿Por qué el presidente Wilson realiza esta *Declaración*?

b) Explique la consecuencia que tuvo esta *Declaración*.

c) Razone alguno de los argumentos que se exponen para realizar la *Declaración*.

d) Justifique la frase subrayada del texto. ¿Qué guerra es y por qué fue tan espantosa?

DATOS DEL ASPIRANTE	
APELLIDOS:	
NOMBRE:	D.N.I./N.I.E.:

9. Complete la información que se solicita de cada una de las obras siguientes:
(2 puntos: 0,50 puntos cada apartado)




TÍTULO	
AUTOR	
ESTILO	



TÍTULO	
AUTOR	
ESTILO	



TÍTULO	
AUTOR	
ESTILO	



TÍTULO	
AUTOR	
ESTILO	