



**PRUEBAS PARA LA OBTENCIÓN DEL TÍTULO DE GRADUADO EN EDUCACIÓN
SECUNDARIA OBLIGATORIA DESTINADAS A PERSONAS MAYORES DE DIECIOCHO AÑOS
MAYO 2022**

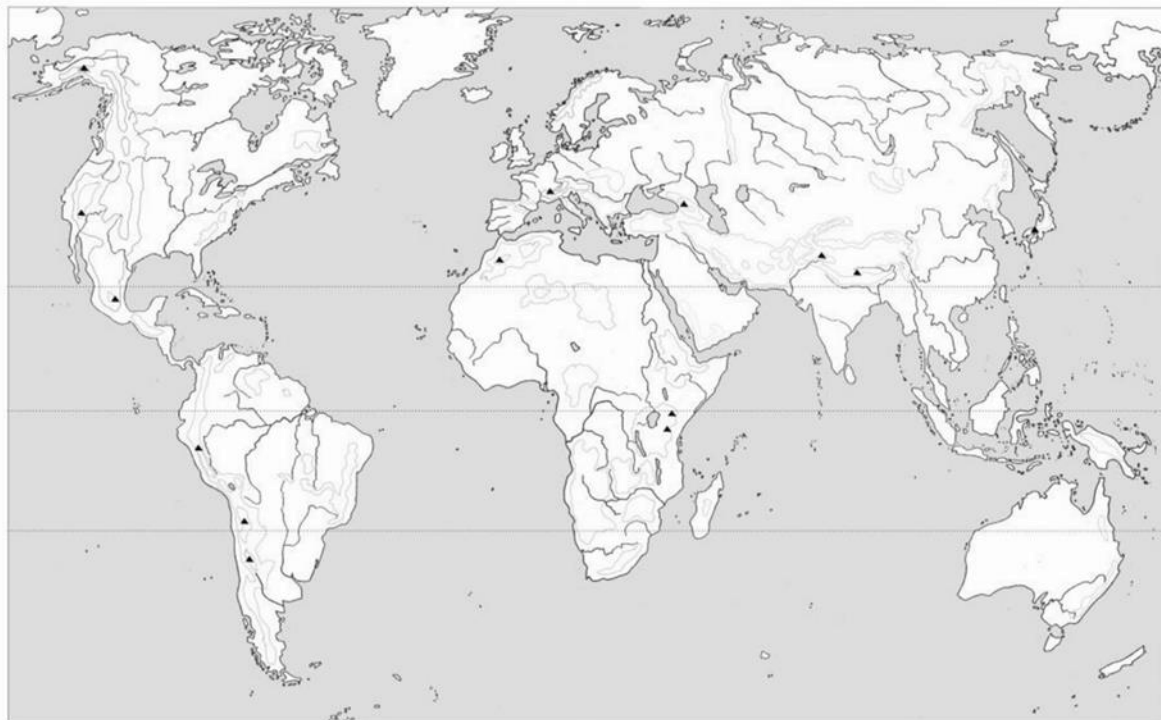
DATOS DEL ASPIRANTE	CALIFICACIÓN
Apellidos:.....	
Nombre:..... DNI:.....	
Centro:.....	

ÁMBITO SOCIAL

Observaciones:

- Esta prueba se compone de un total de 12 preguntas.
- No todas las preguntas tienen el mismo valor. La puntuación de cada una de ellas se indica entre paréntesis al final de cada enunciado.
- La calificación final de la prueba será como máximo de 30 puntos.

**1. Localice en el mapa mudo usando los números correspondientes a cada término (3 puntos)
(cada respuesta correcta 0,2 puntos):**



1. Mar del Norte	2. Lago Victoria	3. Mar Caribe	4. Montes Atlas
5. Desierto de Gobi	6. Montañas Rocosas	7. Río Amazonas	8. Península Árábica
9. Montes Urales	10. Andes	11. Estrecho de Bering	12. Nueva Zelanda
13. Golfo de Guinea	14. Siberia	15. Río Danubio	

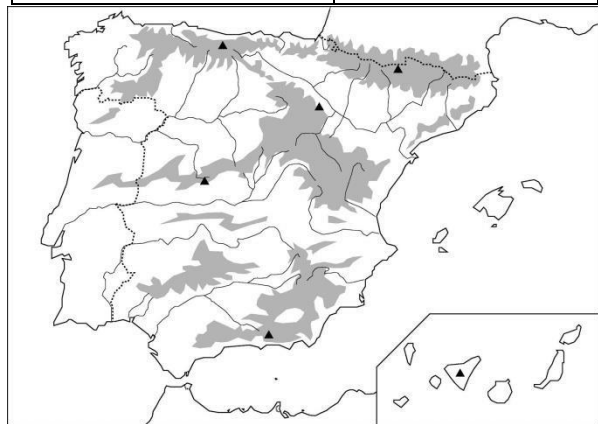


2. Localice usando los números y/o letras correspondientes en cada mapa las siguientes provincias y accidentes geográficos (2 puntos) (cada respuesta correcta 0,125 puntos):

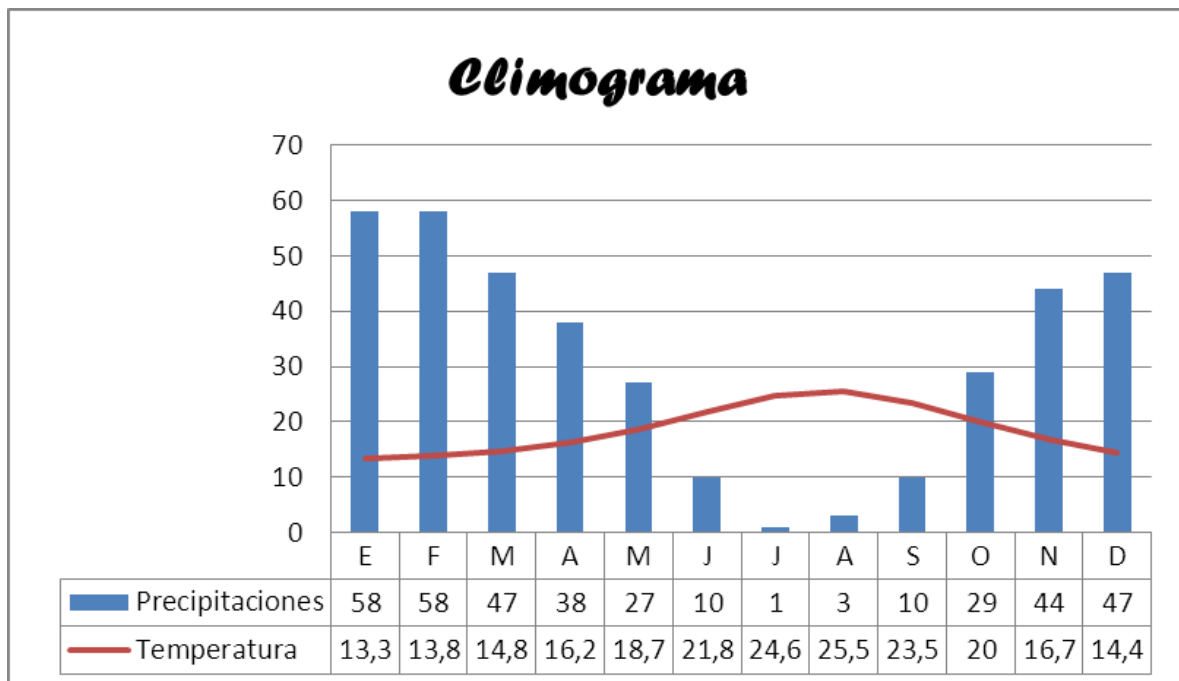
1) Soria	2) Cáceres
3) Sevilla	4) Cuenca
5) Teruel	6) Córdoba
7) Tarragona	8) Cantabria



A. Sierra Morena	B. Golfo de Cádiz
C. Delta del Ebro	D. Isla de La Palma
E. Isla de Menorca	F. Montes Vascos
G. Cabo Finisterre	H. Mulhacén



3. Analice el siguiente gráfico de datos mensuales de temperaturas y precipitaciones perteneciente a una ciudad española (2 puntos) (cada respuesta correcta 0,5 puntos):



- Temperatura media mensual:.....
- Amplitud térmica:.....
- Precipitación total:.....
- Tipo de clima:.....



4. Escriba el concepto que define cada una de las siguientes frases (2 puntos) (cada respuesta correcta 0,2 puntos):

- 1) Movimiento de la Tierra sobre su propio eje.....
- 2) Envoltura gaseosa que rodea la Tierra.....
- 3) Río secundario que desemboca en un río principal.....
- 4) Líneas que unen puntos que tienen la misma temperatura.....
- 5) Astro que gira en torno a un planeta.....
- 6) Líneas que unen puntos que tienen igual presión atmosférica.....
- 7) Distancia en grados entre un lugar determinado y el Ecuador.....
- 8) Aparato con el que se miden las precipitaciones.....
- 9) Zona de alta presión que provoca tiempo estable y ausencia de lluvias.....
- 10) Cara de una montaña que no recibe los rayos solares.....

5. ¿A qué conceptos pertenecen estas definiciones (2 puntos) (cada respuesta correcta 0'5 puntos)?

- a) Relación entre el número de habitantes de un territorio y su superficie:.....
- b) Número de personas nacidas por cada mil habitantes:.....
- c) Número de personas que fallecen en un lugar durante un año:.....
- d) Diferencia entre el número de nacimientos y el número de defunciones de una población:.....

6. Rodee con un círculo la respuesta correcta (3 puntos) (cada respuesta correcta 0,25 puntos):

- A. El proteccionismo defiende que un país debe:
 - a. Limitar las importaciones.
 - b. Eliminar barreras aduaneras y favorecer el comercio.
 - c. Eliminar subvenciones a la producción interior.
- B. Los países menos adelantados exportan:
 - a. Productos agrarios y materias primas.
 - b. Maquinaria a precios muy bajos.
 - c. Productos manufacturados y servicios muy especializados.
- C. ¿Cómo se clasifican las necesidades?
 - a. Materiales e inmateriales.
 - b. Bienes y servicios.
 - c. Primarias y secundarias.
- D. Los agentes económicos son:
 - a. Familias, Empresas y Estado o Sector Público.
 - b. Las Industrias, Comercios y Servicios.
 - c. El Sector Privado y el Sector Público.



- E. ¿Cuál es una de las reglas de oro de un sistema económico capitalista?
- La existencia de empresas públicas.
 - La ley de la oferta y la demanda.
 - El control que ejerce el Estado sobre la economía.
- F. Los préstamos de interés variable se calculan:
- En función del Euribor.
 - En función del Banco de España.
 - En función de la Tasa de Interés Nominal publicada por el Gobierno.
- G. Un empresario autónomo...:
- Tiene responsabilidad limitada y paga Impuesto de Sociedades.
 - Tiene responsabilidad limitada y paga IRPF.
 - Tiene responsabilidad ilimitada y paga IRPF.
- H. Una Sociedad Anónima:
- Requiere 60.000 € de capital y paga Impuesto de Sociedades.
 - Requiere 3.000 € de capital y paga IRPF.
 - Requiere 60.000 € de capital y paga IRPF.
- I. ¿Qué es el umbral de rentabilidad de una empresa?
- El precio de venta menos el coste de la producción.
 - Beneficios de la empresa.
 - Número mínimo de unidades que una empresa debe vender para cubrir costes totales.
- J. El valor de lo que se produce en un país se denomina:
- Inflación.
 - PIB.
 - IPC.
- K. Para financiar el déficit público, los estados pueden:
- Disminuir la cantidad de dinero en circulación.
 - Emitir deuda pública.
 - Devolver deuda pública.
- L. La causa de la hiperinflación es:
- Una emisión excesiva de dinero.
 - Un incremento del desempleo.
 - Una bajada brusca de los precios.

7. Indique qué sector económico (primario, secundario o terciario) incluiría las siguientes actividades (2 puntos) (cada respuesta correcta 0,2 puntos):

Venta de maquinaria industrial	
Industria del acero	
Enseñanza secundaria	
Agricultura en invernaderos	
Pesca de marisco	



Transporte de viajeros en ferrocarril	
Fabricación de aviones	
Elaboración del pan	
Hostelería	
Fabricación de teléfonos móviles	

8. Complete las siguientes frases (3 puntos) (cada respuesta correcta 0,25 puntos):

- a) En España está vigente la Constitución de.....
- b) Las Cortes Generales están formadas por dos cámaras:.....
.....
- c) El poder ejecutivo en España corresponde al.....
- d) El órgano de gobierno de los municipios es el.....
- e) Actualmente, en España existen..... provincias.
- f) España está dividida en..... Comunidades Autónomas y..... Ciudades Autónomas.
- g) En una Comunidad Autónoma, el gobierno central está representado por el/la.....
.....
- h) La Asamblea Regional murciana tiene su sede en.....
- i) El dirige la política monetaria de los países de la zona del euro.
- j) El país que recientemente ha abandonado la Unión Europea es.....
- k) Con el Tratado de....., que se firma en 1957, nació la Comunidad Económica Europea.
- l) España se incorporó a la CEE en.....

9. Complete las frases (3 puntos) (cada respuesta correcta 0,15 puntos):

- Las etapas de la Prehistoria son:.....
- En el Neolítico, el hombre se convierte en.....
- El primer metal en ser trabajado fue.....
- Dos tipos de monumentos megalíticos son.....
- La civilización mesopotámica aparece entre los ríos.....
- La invención de la escritura dio paso.....
- La escritura egipcia es conocida como.....
- La Guerra del Peloponeso tuvo lugar entre.....
- Las ciudades-estado de la antigua Grecia se llaman.....
- Los tres órdenes arquitectónicos griegos son.....



- Las Guerras Púnicas enfrentaron a.....
- El primer emperador romano fue.....
- El Imperio romano de occidente finaliza en el año.....
- La capital del Imperio bizantino era.....
- El último rey visigodo fue.....
- La invasión musulmana en la Península Ibérica se produjo en el año.....
- El fundador del califato de Córdoba fue.....
- Los estilos artísticos principales de la Edad Media son.....
- La Reconquista comenzó en 722 con la batalla de.....
- En 1348 tuvo lugar la terrible epidemia llamada.....

10. Sitúe cada personaje o acontecimiento histórico en la etapa a la que corresponde (2 puntos) (0,2 puntos cada respuesta correcta):

- Reinos de Taifas.
- Fernando VII.
- Fundación de Cartagena.
- Pericles.
- Guerra Fría.
- Instrumentos de sílex.
- Guerra de los Cien Años.
- Reforma Protestante.
- Revolución Industrial.
- Neolítico.

PREHISTORIA	EDAD ANTIGUA	EDAD MEDIA	EDAD MODERNA	EDAD CONTEMPORÁNEA

11. Señale con una cruz la respuesta correcta de las siguientes obras artísticas (3 puntos) (0,25 puntos cada respuesta correcta):

	<p>NOMBRE DE LA OBRA: El Partenón _____ El Coliseo _____ El Circo romano _____</p> <p>AÑOS DE CONSTRUCCIÓN: 447 y 432 a.C. _____ 1500 y 1540 d.C. ____ 1447 y 1432 a.C. ____</p> <p>ESTILO ARTÍSTICO: Románico ____ Gótico ____ Clásico, orden dórico ____</p>
---	--



NOMBRE DE LA OBRA:

Catedral de Burgos ____

Catedral de Murcia ____

Catedral de Santiago de Compostela ____

SIGLOS DE CONSTRUCCIÓN:

XIX ____

XII ____

XVIII ____

ESTILO ARTÍSTICO:

Barroco ____

Gótico ____

Modernista ____



NOMBRE DE LA OBRA:

María Magdalena ____

La Piedad ____

El Duelo ____

AUTOR:

Leonardo da Vinci ____

Donatello ____

Miguel Ángel ____

ESTILO ARTÍSTICO:

Renacimiento ____

Barroco ____

Clásico ____



NOMBRE DE LA OBRA:

Las Señoritas de Avignon__

Las Damas__

Las Tres Gracias__

AUTOR:

Picasso ____

Monet ____

Rubens ____

ESTILO ARTÍSTICO:

Romanticismo ____

Barroco__

Gótico__



12. Relacione cada uno de estos términos con su enunciado (3 puntos) (0,2 puntos cada respuesta correcta):

MUSICAL	CLAVE	TIMBRE	POLIFONÍA	MÚSICA FOLK
PENTAGRAMA	MELODÍA	COMPÁS	ADAGIO	SINFONÍA
VERDI	VIVALDI	MOZART	TCHAIKOVSKI	BEETHOVEN

	Cualidad del sonido que nos hace distinguir diferentes instrumentos y órganos de producción de sonido
	Composición o parte de ella que se ha de ejecutar con movimiento lento
	Las Bodas de Fígaro
	Tipo de composición musical para la orquesta, dividida en cuatro movimientos, cada uno con un tempo y estructura diferente
	Es un signo que se escribe al principio de cada pentagrama
	El Lago de los Cisnes
	Canto de la melodía a varias voces
	Conjunto de cinco líneas horizontales y equidistantes, donde se escriben los signos musicales
	La Novena Sinfonía
	Es un género teatral o cinematográfico en el que la acción se desenvuelve con distintas secciones cantadas y bailadas
	La Traviata
	Sucesión de sonidos de diferentes alturas que expresan una idea musical
	Se refiere a la música tradicional y popular
	Las Cuatro Estaciones
	Se refiere a la división musical y se representa gráficamente por unas líneas verticales