

**PRUEBA LIBRE PARA LA OBTENCIÓN DIRECTA DEL TÍTULO DE  
GRADUADO EN EDUCACIÓN SECUNDARIA OBLIGATORIA  
MAYO 2024**

**EXAMEN DEL ÁMBITO SOCIAL**

Nombre		Apellidos	
DNI/NIE/pasaporte		Fecha de nacimiento	
Dirección			
Provincia		Teléfono	

PUNTUACIÓN DEL EXAMEN  
CALIFICACIÓN DE LA MATERIA


**INSTRUCCIONES PARA LA REALIZACIÓN DEL EXAMEN**

- Lea bien estas instrucciones antes de empezar. Si tiene alguna duda, pregunte.
- Para realizar este examen dispone de un tiempo máximo de una hora y cuarenta y cinco minutos.
- Cumplimente sus datos personales en la portada y en el encabezado de cada hoja.
- Lea con atención los enunciados de cada ejercicio.
- Realice la prueba con bolígrafo azul.
- Escriba con letra clara (no escriba en mayúsculas).
- No puede utilizar diccionario ni ningún dispositivo electrónico.
- Si tiene teléfono móvil, debe apagarlo o ponerlo en el modo avión.
- Antes de salir del aula deberá llamar al profesor o profesora que esté al cuidado y hacerle entrega de sus hojas de examen, aunque no lo haya realizado.
- En las preguntas tipo test solo debe marcar una respuesta. En el caso de que se marque más de una, se anulará la pregunta.
- En cada ejercicio y apartado se refleja su valor.



**1) Relacione los distintos periodos y edades con los acontecimientos que marcan el inicio de cada uno (cada respuesta correcta vale 0,1 puntos).**

1	Prehistoria
2	Edad Antigua
3	Edad Media
4	Edad Moderna
5	Edad Contemporánea

A	Descubrimiento de América o caída de Constantinopla
B	Revolución francesa
C	Caída del Imperio romano de Occidente
D	Invención de la escritura
E	Aparición de los primeros seres humanos

1 \_\_\_\_\_ 2 \_\_\_\_\_ 3 \_\_\_\_\_ 4 \_\_\_\_\_ 5 \_\_\_\_\_

Puntuación máx.: 0,5 puntos

**2) Complete el texto con los términos correctos, sabiendo que hay más términos que espacios para rellenar (cada respuesta correcta vale 0,1 puntos).**

Términos: sedentarización, depredadora, Prehistoria, la agricultura, la pesca, Edad Antigua, nomadismo, productora, piedra pulimentada, metal.

Texto: Durante la etapa de la \_\_\_\_\_ conocida como Neolítico apareció por primera vez una economía \_\_\_\_\_, caracterizada por la aparición de nuevas actividades económicas como \_\_\_\_\_ y la ganadería. Esto favoreció que los grupos humanos se establecieran en un lugar fijo, lo que se conoce como \_\_\_\_\_. También surgieron herramientas de \_\_\_\_\_.

Puntuación máx.: 0,5 puntos



**3) Seleccione la opción correcta entre las cuatro que se le ofrecen (cada acierto suma 0,2 y cada error resta 0,05).**

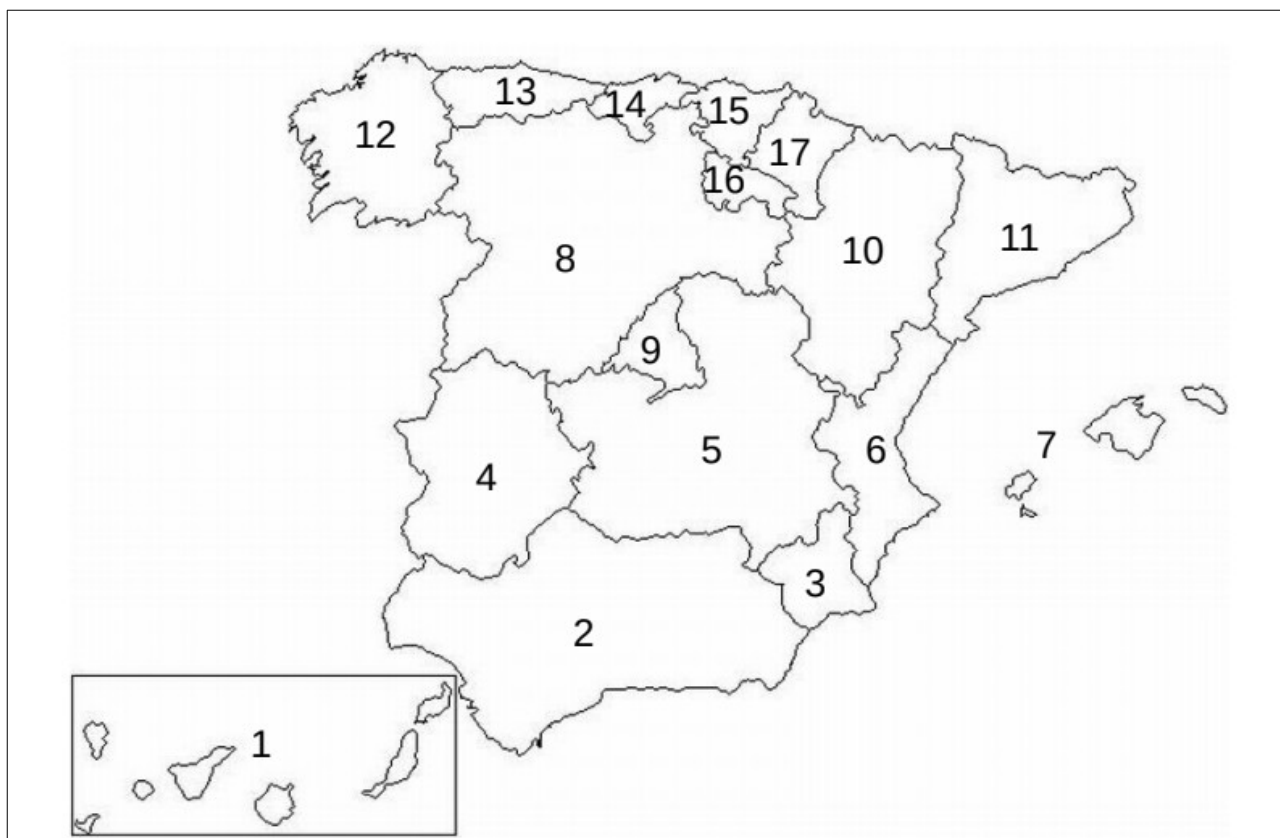
1. Indique qué actividades económicas corresponden al sector servicios:
  - a. comercio, transporte, sanidad y finanzas;
  - b. sanidad, educación, transporte y minería;
  - c. educación, turismo, construcción y sanidad;
  - d. construcción, silvicultura, transporte y turismo.
  
2. En un país desarrollado:
  - a. la mayor parte de la población activa se dedica al sector primario;
  - b. la agricultura es el sector que menos trabajadores emplea;
  - c. el sector servicios es casi inexistente;
  - d. el sector secundario está conformado por la agricultura y la pesca.
  
3. Las características del poblamiento urbano son:
  - a. predominio de actividades agrícolas, alta densidad de población y baja disponibilidad de servicios públicos;
  - b. predominio de actividades del sector secundario y terciario, baja densidad de población y amplia oferta de ocio;
  - c. actividades predominantemente del sector primario y baja oferta de transporte público;
  - d. alta densidad de la población, predominio de actividades del sector secundario y terciario y amplia oferta de servicios públicos.

Puntuación máx.: 0,6 puntos



**4) Identifique las distintas comunidades autónomas españolas completando la tabla con el listado que se ofrece a continuación (cada respuesta correcta vale 0,1 punto).**

Comunidades autónomas: Andalucía, Aragón, Canarias, Cantabria, Castilla-La Mancha, Castilla y León, Cataluña, Comunidad de Madrid, Comunidad Foral de Navarra, Comunidad Valenciana, Extremadura, Galicia, Islas Baleares, La Rioja, País Vasco, Principado de Asturias, Región de Murcia.



<https://www.cerebriti.com/juegos-de-geografia/mapa-de-comunidades-autonomas-de-espana1>

1		10	
2		11	
3		12	
4		13	
5		14	
6		15	
7		16	





8		17	
9			

Puntuación máx.: 1,7 puntos

**5) Relacione cada formación del relieve volcánico de Canarias con su definición (cada respuesta correcta vale 0,1 puntos).**

1	Tubo volcánico	A	Antigua cordillera volcánica desgastada en algún grado por la erosión del agua y el viento
2	Macizo	B	Colada de lava solidificada, de superficie muy irregular, aguda y cortante por donde resulta difícil caminar
3	Malpaís	C	Cordilleras volcánicas que se han ido formando por la sucesión de erupciones volcánicas a lo largo del tiempo
4	Caldera	D	Depresión con forma más o menos circular que puede tener diferentes orígenes: explosión, erosión o hundimiento
5	Dorsal	E	Cueva en forma de túnel formada a partir de una colada de lava fluida que se enfría en su superficie, pero sigue corriendo en su interior hasta vaciarse

1 \_\_\_\_\_ 2 \_\_\_\_\_ 3 \_\_\_\_\_ 4 \_\_\_\_\_ 5 \_\_\_\_\_

Puntuación máx.: 0,5 puntos

**6) Seleccione la opción correcta entre las cuatro que se le ofrecen (cada acierto suma 0,2 y cada error resta 0,05).**

1. Señale qué fue la romanización:

- proceso de expansión militar del Imperio romano;
- lenguas que descienden del latín;
- estilo artístico que se desarrolla durante la plena Edad Media;
- proceso de asimilación de los distintos elementos de la cultura romana por los pueblos conquistados por Roma.




2. Marque los grupos que componían la sociedad estamental:
- a. rey, nobleza y clero;
  - b. nobleza, clero y pueblo llano;
  - c. privilegiados, burguesía y artesanos;
  - d. maestros, oficiales y aprendices.
3. ¿Cuál de los siguientes factores no fue una causa de los descubrimientos geográficos de finales de la Edad Media y comienzos de la Edad Moderna?:
- a. avances en los instrumentos de orientación y en la cartografía;
  - b. destrucción de civilizaciones precolombinas;
  - c. la idea de la redondez de la Tierra;
  - d. nuevas embarcaciones como la carabela o la nao.

Puntuación máx.: 0,6 puntos

**7) Identifique en la imagen cada uno de los siguientes elementos de la arquitectura gótica (cada respuesta correcta vale 0,1 puntos).**

Elementos: arbotante, rosetón, pináculo, arco apuntado, contrafuerte.



*Imagen de Wikimedia Commons bajo dominio público*

1. \_\_\_\_\_
2. \_\_\_\_\_

Examen del ámbito Social	
Nombre y apellidos	



3. \_\_\_\_\_

4. \_\_\_\_\_

5. \_\_\_\_\_

Puntuación máx.: 0,5 puntos

**8) Asocie cada concepto con su definición (cada respuesta correcta vale 0,2 puntos).**

1	Monarquía absoluta
2	Sufragio censitario
3	Tercer Estado
4	Sufragio universal
5	Humanismo

A	Derecho al voto de todos los ciudadanos de un Estado sin distinción de sexo, raza o riqueza.
B	Sistema político del Antiguo Régimen que concentra todos los poderes en el monarca.
C	Grupo social del Antiguo Régimen formado por los no privilegiados
D	Movimiento filosófico y cultural surgido en los siglos XIV y XV que se caracteriza por un pensamiento antropocéntrico opuesto al teocentrismo medieval
E	Derecho al voto limitado a aquellos ciudadanos de un Estado que cumplan con unos requisitos de renta o patrimonio

1 \_\_\_\_\_ 2 \_\_\_\_\_ 3 \_\_\_\_\_ 4 \_\_\_\_\_ 5 \_\_\_\_\_

Puntuación máx.: 1 punto

**9) Seleccione la opción correcta entre las cuatro que se le ofrecen (cada acierto suma 0,2 y cada error resta 0,05).**

1. La primera revolución industrial se basó en el uso como fuente de energía de:

- el carbón
- la electricidad
- el petróleo
- la energía solar



2. Una de las causas de la Primera Guerra Mundial fue:
- los conflictos coloniales y la inestabilidad de los Balcanes,
  - el bombardeo japonés de Pearl Harbor,
  - la guerra civil española,
  - el enfrentamiento entre fascismos y democracias.
3. La Guerra Fría puede definirse como:
- el movimiento de desobediencia civil no violento emprendido por Gandhi para la independencia de la India;
  - la lucha por la descolonización y la autodeterminación de los pueblos;
  - la eliminación de toda disidencia dentro de la URSS;
  - el clima de tensión constante y desconfianza generado tras la Segunda Guerra Mundial entre Estados Unidos y la URSS.

Puntuación máx.: 0,6 puntos

**10) Asocie cada imagen con un estilo artístico de los que se mencionan abajo (cada respuesta correcta vale 0,1 puntos).**

Expresionismo, Barroco, impresionismo, arte griego, Renacimiento.



Imagen de Wikimedia Commons bajo dominio público

1 \_\_\_\_\_



Imagen de Wikipedia bajo licencia Creative Commons

2 \_\_\_\_\_






Imagen de Wikimedia Commons bajo dominio público

3 \_\_\_\_\_



Imagen de Wikimedia Commons bajo dominio público

4 \_\_\_\_\_



Imagen de Wikimedia Commons bajo dominio público

5 \_\_\_\_\_

Puntuación máx.: 0,5 puntos



**11) Relacione cada instrumento musical con la familia a la que pertenece (cada respuesta correcta vale 0,1 puntos).**

1	Fagot
2	Tuba
3	Piano
4	Marimba
5	Contrabajo

A	Cuerda percutida
B	Viento madera
C	Percusión
D	Viento metal
E	Cuerda frotada

1 \_\_\_\_\_ 2 \_\_\_\_\_ 3 \_\_\_\_\_ 4 \_\_\_\_\_ 5 \_\_\_\_\_

Puntuación máx.: 0,5 puntos

**12) Asocie cada institución de la comunidad autónoma de Canarias con su función (cada respuesta correcta vale 0,1 puntos).**

1	Parlamento de Canarias
2	Gobierno de Canarias
3	Cabildos
4	Diputación del Común
5	Tribunal Superior de Justicia de Canarias

A	Protege los derechos fundamentales y las libertades públicas
B	Representa al pueblo canario, aprueba las leyes y los presupuestos de la comunidad
C	Instancia superior de la administración de justicia de Canarias
D	Le corresponden las funciones ejecutivas y administrativas
E	Ejerce el gobierno y representación de cada isla

1 \_\_\_\_\_ 2 \_\_\_\_\_ 3 \_\_\_\_\_ 4 \_\_\_\_\_ 5 \_\_\_\_\_

Puntuación máx.: 0,5 puntos



**13) Asocie cada tipo de derechos humanos con su definición (cada respuesta correcta vale 0,25 puntos).**

1	Derechos humanos de primera generación	A	Son fundamentalmente sociales, económicos y culturales y aseguran a los diferentes miembros de la ciudadanía igualdad de condiciones y de trato
2	Derechos humanos de segunda generación	B	Incluyen los derechos al desarrollo, a la paz, a un medio ambiente sano, a la autodeterminación de los pueblos y a la asistencia humanitaria.
3	Derechos humanos de tercera generación	C	Son fundamentalmente civiles y políticos y tratan esencialmente de la libertad y la participación en la vida política.
4	Derechos humanos de cuarta generación	D	Son derechos generados a partir de nuevas tecnologías como Internet o los avances en la genética.

1 \_\_\_\_\_ 2 \_\_\_\_\_ 3 \_\_\_\_\_ 4 \_\_\_\_\_

Puntuación máx.: 1 punto

**14) Relacione cada tipo de tarjeta bancaria con su definición (cada respuesta correcta vale 0,1 puntos).**

1	Tarjeta de crédito	A	Es aquella cuyos pagos se encuentran siempre aplazados cobrándose un interés por su financiación
2	Tarjeta de débito	B	Tarjeta sin soporte físico y cuya finalidad es hacer pagos seguros por Internet. Es válida para una única operación y resulta más segura porque evita usar el número real de la tarjeta
3	Tarjeta <i>revolving</i> o de pago aplazado	C	Tarjeta que permite tanto retirar dinero en cajeros como pagar en comercios, descontándose los cargos en cuenta de forma inmediata
4	Tarjeta de prepago	D	Tarjeta con un crédito asociado pudiendo elegir el cliente la forma de devolución (fin de mes, cuota fija o porcentaje mensual...) en función de lo cual se cobran intereses o no
5	Tarjeta virtual	E	Es aquella que tiene un uso limitado al importe que previamente se ha cargado en ella

1 \_\_\_\_\_ 2 \_\_\_\_\_ 3 \_\_\_\_\_ 4 \_\_\_\_\_ 5 \_\_\_\_\_


Puntuación máx.: 0,5 puntos



15) Identifique en la siguiente nómina los elementos que están marcados, teniendo en cuenta que hay más términos que espacios a rellenar (cada respuesta correcta vale 0,1 puntos).

Palabras: periodo de liquidación, datos del trabajador, líquido a percibir, datos de la empresa, deducciones, detalles de la base de cotización, devengos.

Hoja 1 de 1



**Gobierno de Canarias**  
Consejería de Educación y Universidades

Nómina:  Colectivo:

Tipo Personal:

Cuerpo:

Centro:

Apellidos, Nombre:

Domicilio:

N.I.F.

1 de Mar al 31 de Mar 2017

Conceptos	3		4	
	Mes	Atrasos	Mes	Atrasos
110 Sueldo Base	1.120,15			
120 Trienios (Gr.A-7)	301,56			
160 Indemnización Residencia	131,57			
170 Complemento Específico	620,66			
171 Complemento Destino	596,88			
172 Compl.Esp.Responsabilidad (Jefatura de Departamento - 2D)	67,28			
927 Muface			48,10	
928 Derechos Pasivos			109,86	
929 Cuota I.R.P.F. 19,09			541,79	
<u>Sumas</u>	2.838,10		699,75	

Devengos: 2.838,10 Retenciones: 699,75 Líquido: 2.138,35

Número Afiliación	G. Tarifa	CNAE	Día Cot.
Base Bruta	Prorrata		
Base C.C.	Base A.T.-E.P.		

Situación Familiar		Hijos/ascendientes	
Situación 3		/	
	Base	%	Cuotas
2017	2.838,10	19,09	541,79

Imagen de elaboración propia



Examen del ámbito Social	
Nombre y apellidos	



- 1. \_\_\_\_\_
- 2. \_\_\_\_\_
- 3. \_\_\_\_\_
- 4. \_\_\_\_\_
- 5. \_\_\_\_\_

Puntuación máx.: 0,5 puntos