



**PRUEBAS PARA LA OBTENCIÓN DEL TÍTULO DE GRADUADO EN EDUCACIÓN
SECUNDARIA OBLIGATORIA DESTINADA A PERSONAS MAYORES DE DIECIOCHO AÑOS
SEPTIEMBRE 2024**

DATOS DEL ASPIRANTE	CALIFICACIÓN
Apellidos:.....	
Nombre:..... DNI:.....	
Centro:.....	

ÁMBITO SOCIAL

Observaciones:

- Esta prueba se compone de un total de 14 preguntas.
- No todas las preguntas tienen el mismo valor. La puntuación de cada una de ellas se indica entre paréntesis al final de cada enunciado.
- La calificación final de la prueba será como máximo de 30 puntos.

1. Localice los siguientes accidentes geográficos en el continente correspondiente (3 puntos) (cada respuesta correcta 0,2 puntos):

Desierto Victoria	Canal de La Mancha	Río Congo	Estrecho de Magallanes
Mar Caribe	Río Amazonas	Cordillera de los Andes	Mar Mediterráneo
Río Nilo	Montañas Rocosas	Mar del Norte	Lago Victoria
Cárpatos	Isla de Madagascar	Península del Indostán	

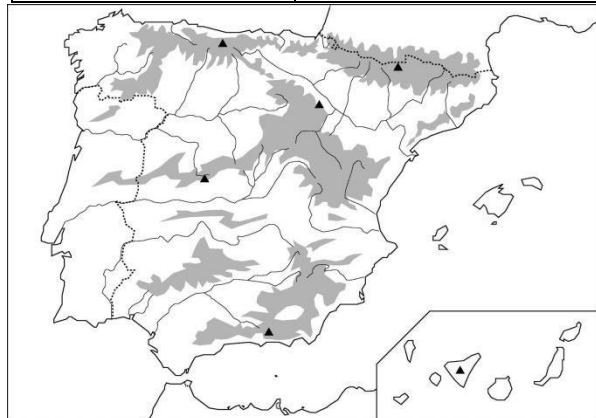
EUROPA	ASIA	ÁFRICA	AMÉRICA DEL NORTE	AMÉRICA CENTRAL Y DEL SUR	OCEANÍA

2. Localice, usando los números (mapa izquierdo) y letras (mapa derecho), las siguientes provincias y accidentes geográficos (2 puntos) (cada respuesta correcta 0,125 puntos):

1) Soria	2) Valencia
3) Pontevedra	4) Girona
5) Cuenca	6) Guipúzcoa
7) Cáceres	8) Asturias

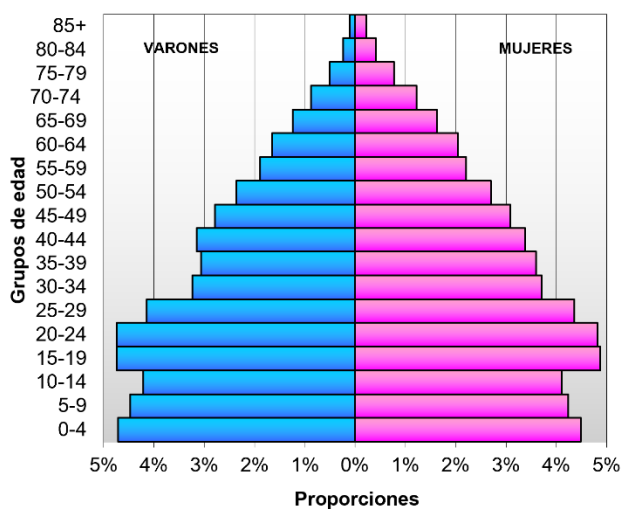


A. Sierra Nevada	B. Isla de Ibiza
C. Río Guadalquivir	D. Isla de Tenerife
E. Aneto	F. Picos de Europa
G. Río Tago	H. Sistema Ibérico



3. Analice la siguiente pirámide de población y conteste a las preguntas (2 puntos) (cada respuesta correcta 0,4 puntos):

Pirámide de población de España, año 1950



Fuente: Instituto Nacional de Estadística. Censo de 1950

a) ¿Cuál es la forma de la pirámide?

.....

b) ¿Qué grupo de población predomina en ella?

.....

c) ¿Cómo es la natalidad, mortalidad y esperanza de vida que se observa en la pirámide?

.....

d) ¿A qué tipo de países corresponde esta pirámide?

.....

e) Observa la pirámide detenidamente, ¿por qué la población entre 5 y 14 años es ligeramente inferior a la de 15-24 años?

.....

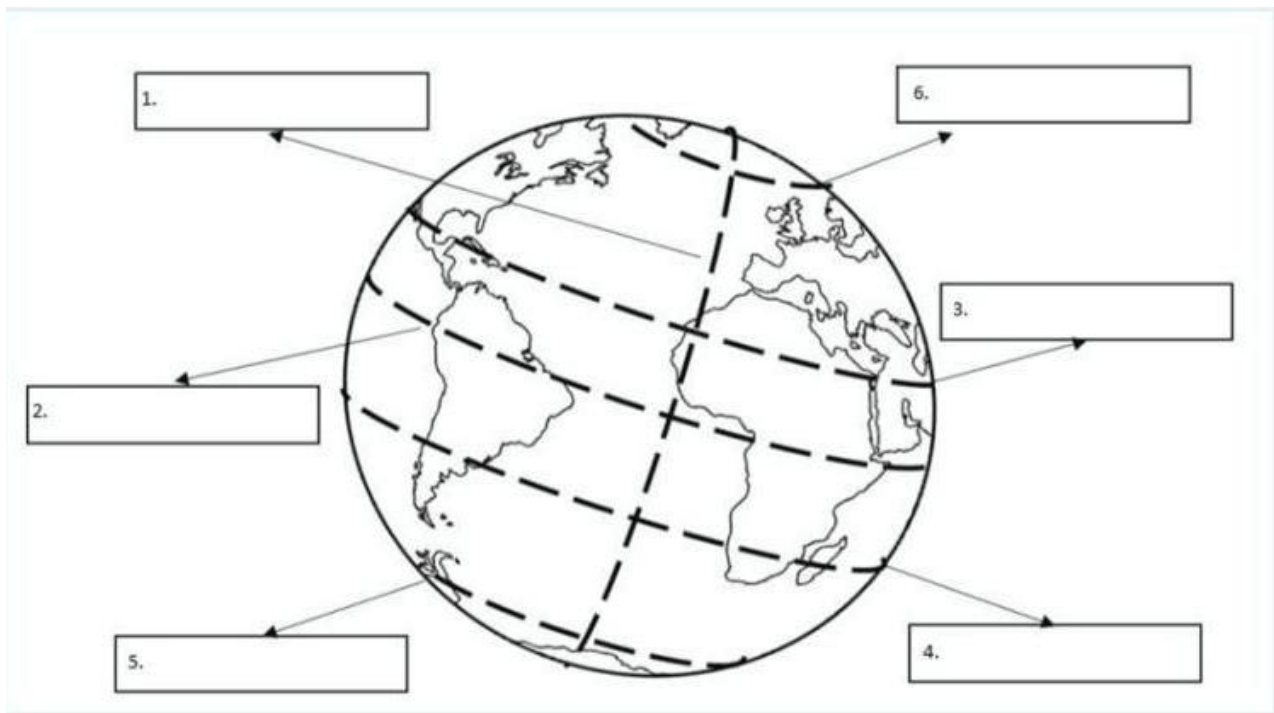
.....

.....

.....

4. Observe la imagen y señale las líneas imaginarias de la Tierra (2 puntos) (cada respuesta correcta 0,33 puntos):

1.
2.
3.
4.
5.
6.



5. Rodee con un círculo la respuesta correcta (3 puntos) (cada respuesta 0,3 puntos).

- A ¿Cómo se llama cada una de las 24 áreas en que se divide la Tierra?**
- a) Paralelo
 - b) Meridiano
 - c) Huso horario
- B ¿Cómo se denomina el lugar del interior de la Tierra donde se origina un terremoto?**
- a) Hipocentro
 - b) Tsunami
 - c) Epicentro
- C Un conjunto de islas próximas se denomina:**
- a) Golfo
 - b) Bahía
 - c) Archipiélago



D Las ondulaciones o curvas de un río se llaman:

- a) Meandros
- b) Desfiladeros
- c) Cascadas

E La cantidad de agua que lleva un río se llama:

- a) Cauce
- b) Caudal
- c) Rambla

F ¿Cómo afecta la altitud a la temperatura?

- a) Va aumentando a medida que ascendemos
- b) Va disminuyendo a medida que ascendemos
- c) La altitud no afecta a la temperatura

G Las borrascas suelen traer un tiempo:

- a) Inestable y lluvioso
- b) Estable y seco
- c) Ventoso y seco

H Un clima con temperaturas elevadas todo el año y muy regulares, y precipitaciones abundantes:

- a) Clima tropical
- b) Clima de montaña
- c) Clima ecuatorial

I Nuestro país se rige por la Constitución de

- a) 1978
- b) 1968
- c) 1988.

J ¿Dónde está la sede de la Asamblea Regional de Murcia?

- a) En Murcia
- b) En Cartagena
- c) En Lorca

6. De los siguientes términos geográficos, escriba en el recuadro de la derecha el que hace referencia cada una de las siguientes definiciones (2 puntos) (0,2 cada respuesta correcta):
LATITUD – ISLA – DENSIDAD DE POBLACIÓN – PENÍNSULA – PRIMARIO – CRECIMIENTO NATURAL – PLUVIÓMETRO – ISOTERMAS – CABO – MAREAS -

DEFINICIÓN	TÉRMINO GEOGRÁFICO
Extensión de tierra rodeada de agua por todos sus lados excepto por uno.	
Número de habitantes de un territorio que viven por Km ² .	
Sector de la economía que comprende las actividades de agricultura, ganadería, apicultura, acuicultura, pesca, silvicultura y la explotación forestal.	
Diferencia entre el número de nacimientos y el de defunciones.	



DEFINICIÓN	TÉRMINO GEOGRÁFICO
Distancia de cualquier punto de la superficie terrestre con respecto al ecuador.	
Aparato que sirve para medir la cantidad de lluvia.	
Subidas y bajadas del nivel del mar que se observan en la costa.	
Extensión de tierra rodeada de agua por todos sus lados.	
Líneas que unen puntos de igual temperatura.	
Parte de la tierra que penetra en el interior del mar.	

7. Rodee con un círculo la respuesta correcta (3 puntos) (cada respuesta 0,25 puntos).

A. ¿Qué es la tasa de paro?

- a) Cantidad de personas que no trabajan.
- b) Porcentaje de parados con respecto a la población activa.
- c) Es la diferencia entre la población activa y la población inactiva.

B. ¿Cuál de estos acontecimientos no provoca inflación?

- a) Aumento de la demanda.
- b) Aumento en la oferta.
- c) Impresión de mucho nuevo dinero.

C. El proteccionismo defiende que un país debe:

- a) Limitar las importaciones.
- b) Eliminar barreras aduaneras y favorecer el comercio.
- c) Eliminar las subvenciones a la producción interior.

D. El modelo de financiación en el que un colectivo de personas puede participar en un proyecto a cambio de algo es:

- a) El playfunding.
- b) El crowdlending.
- c) El crowdfunding.

E. ¿Qué es el umbral de rentabilidad de una empresa?

- a) El precio de venta menos el coste de la producción.
- b) Beneficios de la empresa.
- c) Número mínimo de unidades que una empresa debe vender para cubrir costes totales.

F. ¿Qué son los costes fijos?

- a) Permanecen constantes, aunque aumente o disminuya la producción.
- b) Varían en función del volumen de la producción.
- c) Valor monetario de los recursos utilizados.

G. ¿Qué diferencia existe entre bienes y servicios?

- a) Los bienes son materiales y los servicios inmateriales.
- b) Los bienes son inmateriales y los servicios materiales.
- c) No existe ninguna diferencia.

H. Los agentes económicos son:

- a) Familias, Empresas y Estado o sector público.
- b) Las Industrias, Comercios y Servicios.
- c) El Sector Privado y el Sector Público.

I. El impuesto sobre la Renta de las Personas Físicas:



- a) Es un impuesto indirecto.
- b) Es un impuesto directo y progresivo.
- c) Es un impuesto trimestral.

J. Señale el tipo de actividad que desarrolla el sector secundario:

- a) Agrícola.
- b) Servicios.
- c) Industria.

K. ¿Qué es la deslocalización de la producción?

- a) Trasladar las empresas hacia países desarrollados
- b) Trasladar las empresas desde los países desarrollados hacia países en vías de desarrollo.
- c) Cambio de residencia de los trabajadores de las empresas.

L. Si los tipos de interés bajan:

- a) Sube la inflación
- b) Baja la inflación
- c) Existe deflación

8. Relacione las fechas con los acontecimientos históricos (2 puntos) (cada respuesta correcta 0,2 puntos):

1	Caída del Imperio Romano de Occidente
2	Constitución vigente en España
3	Descubrimiento de América
4	Final de la Segunda Guerra Mundial
5	Inicio de la Primera Guerra Mundial
6	Inicio de la Revolución Industrial
7	Llegada de los musulmanes a la Península Ibérica
8	Primera Constitución Española
9	Revolución Francesa
10	Revolución Rusa

	476
	711
	1492
	1760
	1789
	1812
	1914
	1917
	1945
	1978

9. Rodee con un círculo la respuesta correcta (2 puntos) (cada respuesta correcta 0,2 puntos):

A. Los fundadores de Cartago Nova fueron:

- a) Griegos.
- b) Fenicios.
- c) Cartagineses.

B. En la antigua Grecia, ¿con qué nombre se conoce a las ciudades-estado independientes?

- a) Peloponeso.
- b) Polis.
- c) Hélade.

C. La escritura egipcia recibe el nombre de:

- a) Cuneiforme.
- b) Jeroglífica.
- c) Cirílica.

D. En las guerras púnicas se enfrentaron:

- a) Griegos y romanos.
- b) Cartagineses y romanos.
- c) Griegos y púnicos.



E. Durante la República romana el poder estaba en manos del...:

- a) Rey.
- b) Emperador.
- c) Senado.

F. ¿Qué acontecimiento marcó el inicio de la Historia?

- a) La invención del fuego.
- b) La invención de la escritura.
- c) La invención de la agricultura.

G. Mastaba, pirámide escalonada, pirámide e hipogeo son.....:

- a) Tipos de tumbas egipcias.
- b) Tipos de palacios egipcios.
- c) Tipos de templos egipcios.

H. Las etapas de la Prehistoria son:

- a) Paleolítico y Edad de los Metales.
- b) Paleolítico, Neolítico y Edad de los Metales.
- c) Paleolítico Inferior, Medio y Superior.

I. La civilización mesopotámica aparece:

- a) Entre los ríos Tigris y Éufrates.
- b) Junto al río Nilo.
- c) Junto al río Ganges.

J. El emperador que dividió el Imperio romano en dos mitades fue:

- a) Constantino.
- b) Marco Aurelio.
- c) Teodosio.

10. Sitúe en la etapa de la Historia que corresponda los siguientes hechos o personajes (2 puntos) (cada respuesta correcta 0,2 puntos):

- Reinos de taifas.
- Instrumentos de sílex.
- Fernando VII.
- Pericles.
- Guerra de los Cien Años.
- Renacimiento.
- Carlos V.
- Ramsés II.
- Alejandro Magno.
- Batalla de Stalingrado.

PREHISTORIA	EDAD ANTIGUA	EDAD MEDIA	EDAD MODERNA	EDAD CONTEMPORÁNEA



11. Rodee con un círculo la respuesta correcta (2 puntos) (cada respuesta correcta 0,2 puntos):

A. La causa inmediata que provocó el estallido de la I Guerra Mundial fue:

- a) La persecución de los judíos.
- b) El comunismo de Rusia.
- c) El asesinato de Francisco Fernando en Sarajevo.

B. ¿Cuál de estos acontecimientos ocurrió durante el reinado de los Reyes Católicos?

- a) La conquista de Granada.
- b) La Reforma protestante.
- c) La Guerra de los Treinta Años.

C. La “Triple Alianza” y la “Triple Entente” fueron los bandos en conflicto en:

- a) La Primera Guerra Mundial.
- b) La Segunda Guerra Mundial.
- c) La Guerra de los Balcanes.

D. La Guerra fría finalizó:

- a) Con la victoria de los países aliados en la Segunda Guerra Mundial.
- b) Con la descomposición del bloque comunista y la desintegración de la URSS.
- c) La Guerra fría no ha terminado.

E. El acontecimiento de la *Hégira* significó.....:

- a) El nacimiento de Mahoma.
- b) La huida de La Meca a Medina; inicio del calendario islámico.
- c) Culmina la unificación política y religiosa de Arabia.

F. ¿Cuándo desaparece el Imperio Bizantino?

- a) Lo conquistan los turcos en 1453.
- b) Lo conquistan los cruzados en 1263.
- c) Lo conquistaron los otomanos en 1553.

G. El monarca que abolió las administraciones y leyes particulares de la Corona de Aragón fue:

- a) Carlos V.
- b) Felipe V de Borbón.
- c) Carlos III de Borbón.

H. ¿En qué batalla derrotó Felipe II a los turcos?

- a) Lepanto.
- b) San Quintín.
- c) Túnez.

I. ¿Quién ocupó en cargo de presidente del Gobierno de España tras la muerte de Franco?

- a) Leopoldo Calvo-Sotelo.
- b) Carlos Arias Navarro.
- c) Felipe González.

J. La Primera revolución industrial se caracterizó por:

- a) La invención de la máquina de vapor y el desarrollo de las industrias textil y siderúrgica.
- b) Desarrollo de la energía nuclear y los transportes ecológicos
- c) Invención del motor de explosión y uso de la energía eléctrica.

12. Señale con una cruz la respuesta correcta de las siguientes obras artísticas (3 puntos) (cada respuesta correcta 0,25 puntos):



NOMBRE DE LA OBRA:

El Partenón ____

El Coliseo ____

El Circo romano ____

AÑOS DE CONSTRUCCIÓN:

447 a.C y 432 a.C ____

1500 y 1540 ____

1447 y 1452 ____

ESTILO ARTÍSTICO:

Románico ____

Renacimiento ____

Clásico, orden dórico ____



NOMBRE DE LA OBRA:

El Moisés ____

Apolo ____

El David ____

ESTILO ARTÍSTICO:

Arte Helenístico ____

Arte Barroco ____

Arte del Renacimiento ____

AUTOR:

Leonardo da Vinci ____

Miguel Ángel ____

Botticelli ____



NOMBRE DE LA OBRA:

Las Meninas ____

El Guernica ____

El grito ____

NOMBRE DEL AUTOR:

Picasso ____

Dalí ____

Munch ____

ESTILO ARTÍSTICO:

Impresionismo ____

Cubismo ____

Surrealismo ____

	<p>NOMBRE DE LA OBRA: Catedral de Burgos____ Catedral de Murcia____ Catedral de Santiago de Compostela____</p> <p>SIGLOS DE CONSTRUCCIÓN: XIX_____ XII_____ XVIII____</p> <p>ESTILO ARTÍSTICO: Barroco_____ Gótico_____ Modernista_____</p>
---	---

13. Relacione compositor y obra: (1 punto) (0,125 puntos cada respuesta correcta)

Paco de Lucia	Verdi	Richard Strauss	Falla
Beethoven	Vivaldi	Mozart	Tchaikovsky

La Traviata	
El amor brujo	
Entre dos aguas	
Las cuatro estaciones	
Salomé	
Las bodas de Fígaro	
Novena sinfonía "Coral"	
El cascanueces	



14. Los instrumentos de una orquesta sinfónica se agrupan por familias (viento madera, viento metal, cuerda y percusión). Escriba un instrumento de cada una de estas familias (1 punto) (0,25 puntos cada respuesta correcta):

Familias	Instrumento
Viento madera	
Viento metal	
Cuerda	
Percusión	